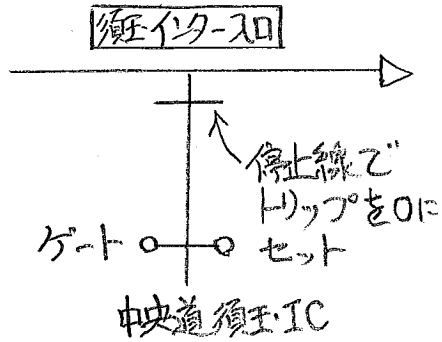
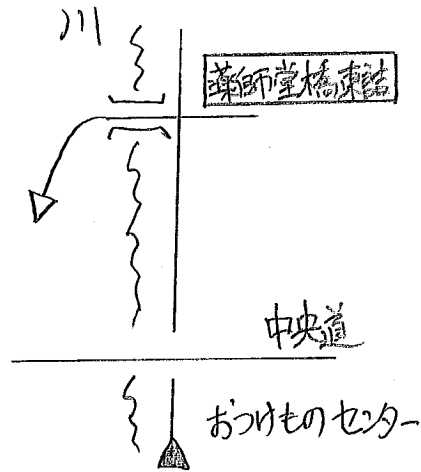


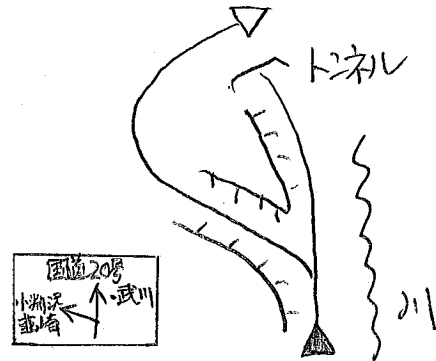
START



①

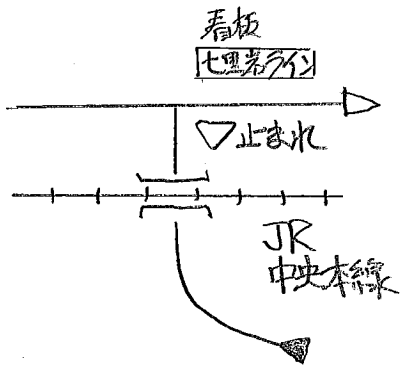


②



Q 1.
 コマ図②のトンネル名を
 答えて下さい。

③

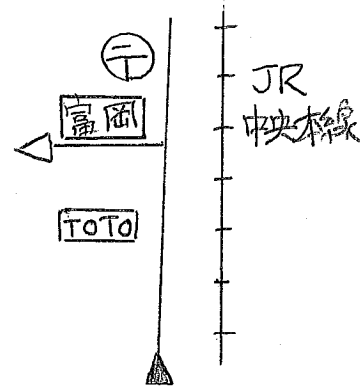


Q 2.

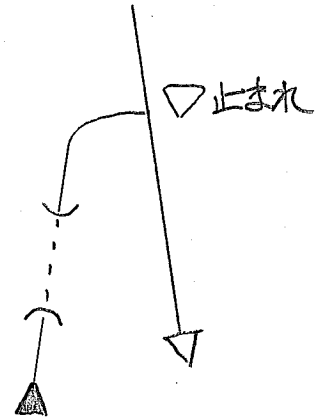


ながさか巡回バスは何号でしょう?


④



⑤

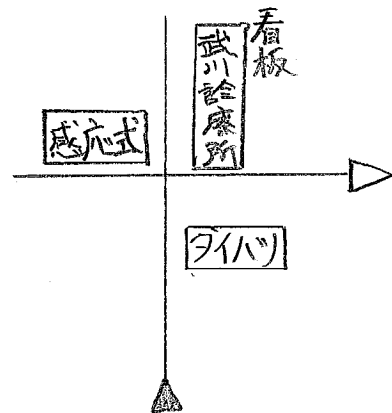


Q 3.

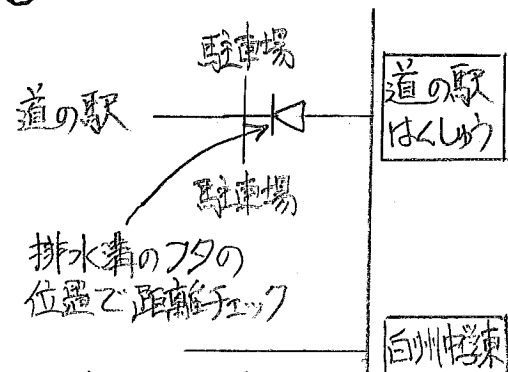


この家の表札の名前を答えて下さい。

⑥



⑦



測定値 13.8 km
 あなたの車は? → Q12で使います。

Q 4.

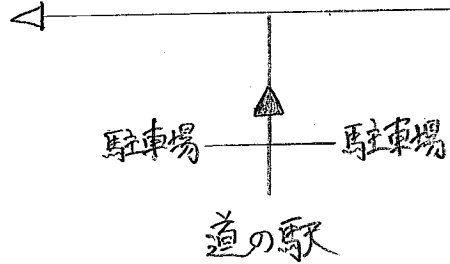
道の駅 はくしゅうから、
 道の駅 甲斐大和までの
 距離を答えて下さい。
 ヒント: 答えは道の駅にあります。

Q5.



道の駅の売店で花びんに売られている物は?

⑧



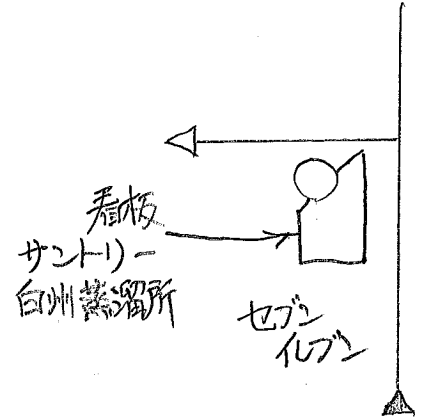
Q6.

道の右手にサントリーの「何か」の工場があります。

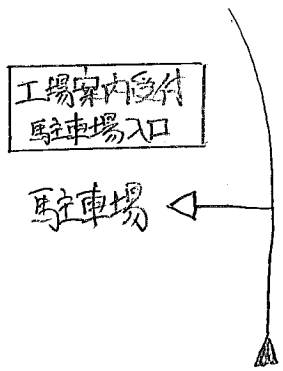
この工場で作っている「何か」も答えて下さい。

ヒント:ウイスキーに関係があります。

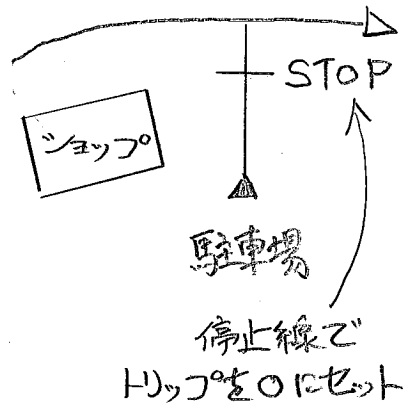
⑨



⑩



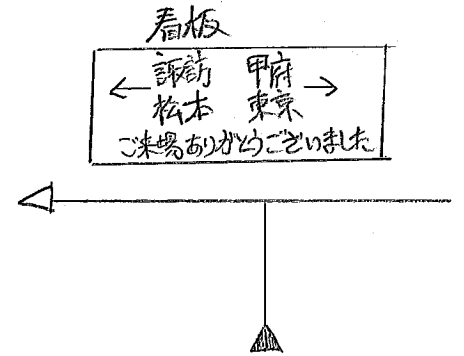
⑪



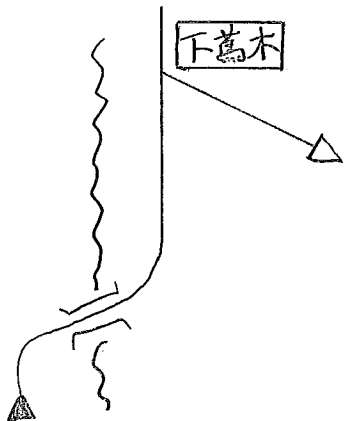
Q7.

コマ図⑪のショップの名称を答えて下さい。

⑫



⑬

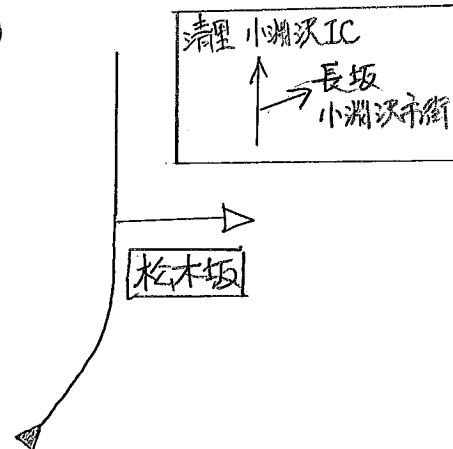


Q8.

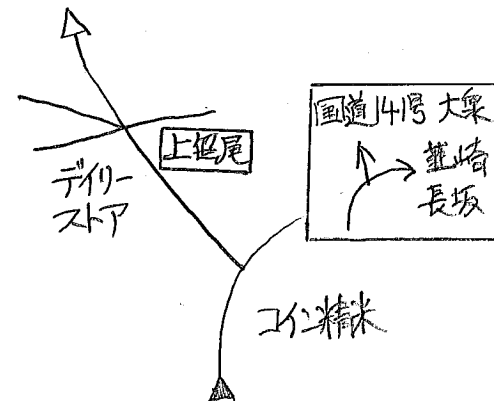
コマ図⑬とコマ図⑭の間の道の愛称を答えて下さい。

ヒント:道路わきの看板に注意。


⑭



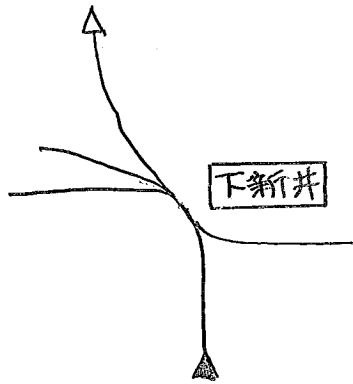
⑮



16



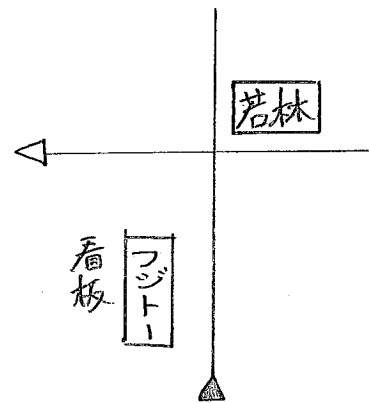
17



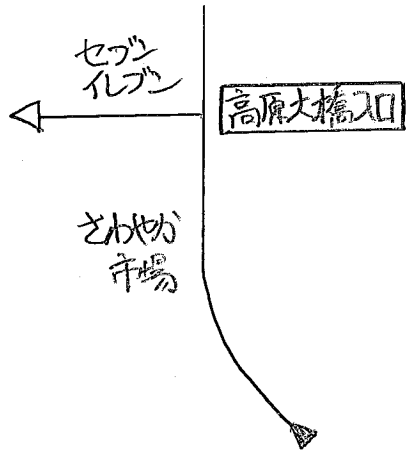
Q9.

大泉村役場庁舎に掛けられて
いる横断幕には何が書かれて
いるかを答えて下さい。

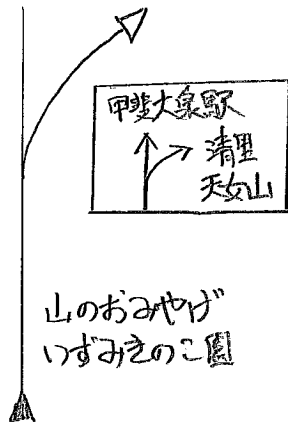
18



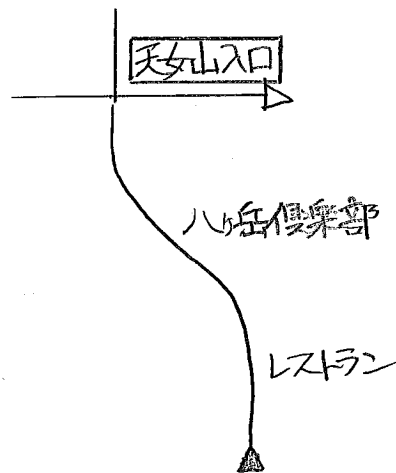
19



20



21



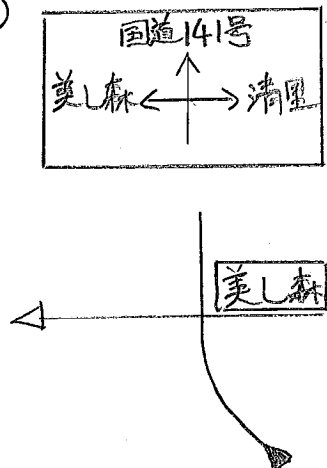
Q10.

ハル岳倶楽部の看板に書かれて
いる「花」の絵を書き写して
下さい。

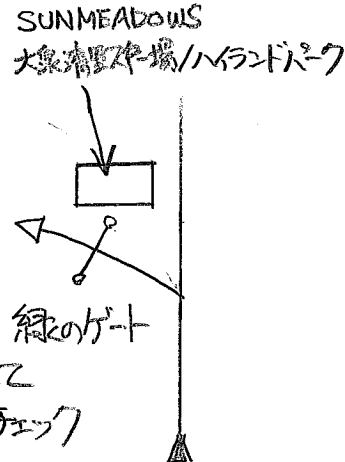
Q11.

コマ図②①とコマ図②②の間
にある東沢橋のりんかんの色を
答えて下さい。

22



GOAL



Q12.

GOALでチェックした距離から、次の
ように補正を行って計算した数字を
答えて下さい。

STARTからコマ図①までのあなたの
車での測定値 --- A

コマ図①からGOALまでのあなたの
車での測定値 --- B

$$\text{答え} = \frac{138}{A} \times B$$